

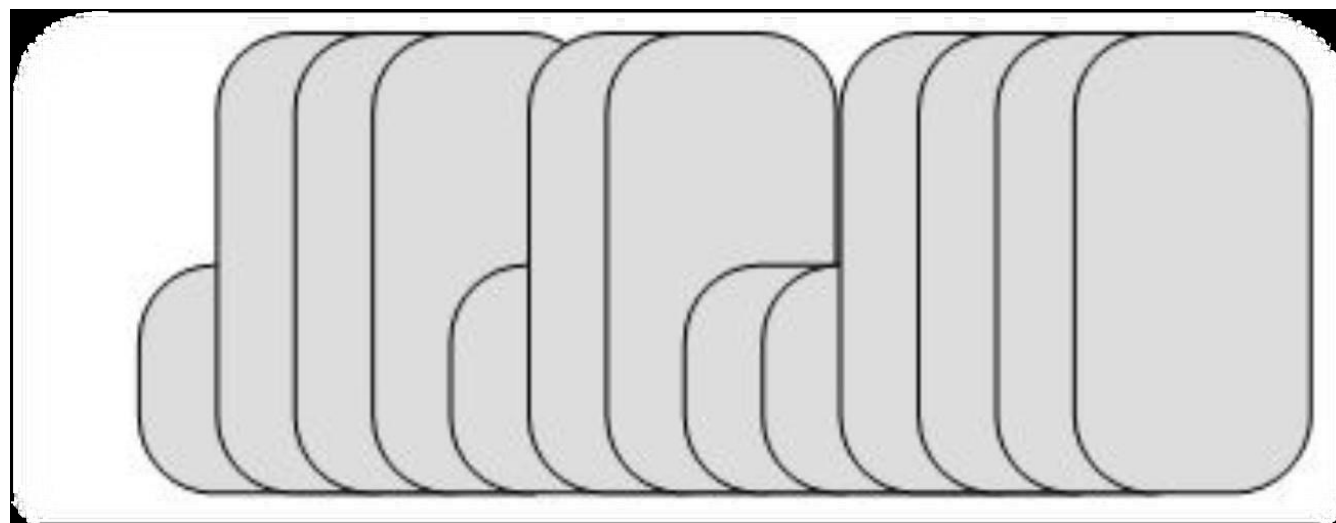
# Wprowadzenie do rozgrywki brydżowej

Andrzej Chyliński

Warszawa 2019

# Brydż dla początkujących

- W jaki sposób układamy karty podczas rozgrywki?




# Sposoby zdobywania lew

- W jaki sposób możemy zdobyć lewę podczas rozgrywki?
  - na honory (albo najwyższe aktualnie karty)
  - na wyrobione blotki w długim kolorze
  - w wyniku impasu
- Narzędzie wspomagające zdobywanie lew - wizualizacja

# Lewy na honory (lub wysokie karty)

S rozgrywa kontrakt bezatutowy. W wistuje w damę karo.  
Kto zdobywa lewę?


	♠ - ♥ - ♦ 5 ♣ -	
♠ - ♥ - ♦ D ♣ -		♠ - ♥ - ♦ W ♣ -
	♠ - ♥ - ♦ K ♣ -	

# Przykładowe rozdanie

	♠ AQ6		
	♥ QW863		
	♦ Q10		
	♣ Q62		
♠ W4	N	♠ 10973	
♥ K942	W E	♥ 107	
♦ 53	S	♦ A8642	
♣ W8732		♣ A9	
	♠ K752		
	♥ A5		
	♦ KW97		
	♣ K104		


# Lewy na honory (lub wysokie karty)

S rozgrywa kontrakt bezatutowy. W wistuje w ósemkę karo.  
Kto zdobywa lewę?

	♠ - ♥ - ♦ 3 ♣ -	
♠ - ♥ - ♦ 8 ♣ -		♠ - ♥ - ♦ 2 ♣ -
	♠ - ♥ 9 ♦ - ♣ -	


# Lewy na honory (lub wysokie karty)

S rozgrywa kontrakt 2 kier (atu – kiery). W wistuje w ósemkę karo.  
Kto zdobywa lewę?

	♠ - ♥ - ♦ 3 ♣ -	
♠ - ♥ - ♦ 8 ♣ -		♠ - ♥ 10 ♦ - ♣ -
	♠ - ♥ 9 ♦ - ♣ -	

# Lewy na honory (lub wysokie karty)

S rozgrywa kontrakt bezatutowy. W wistuje w dwójkę karo.  
Kto zdobywa lewę?

	♠ - ♥ A ♦ - ♣ -	
♠ - ♥ - ♦ 2 ♣ -		♠ A ♥ - ♦ - ♣ -
	♠ - ♥ - ♦ - ♣ A	

N, E oraz S muszą dokonać zrzutek. Pozbędą się asów.



# Brydżowa zasada


- Jeżeli możesz dodać kartę do koloru wistu – musisz to zrobić.
- Jeżeli nie możesz dodać karty w kolorze wistu – musisz wybrać kartę z dowolnego innego koloru.

# Wybór karty wistu - 1

S rozgrywa kontrakt bezatutowy. N wistuje.

Kto zdobywa lewę?

Ile lew weźmie W?

	♠ DW ♥ - ♦ - ♣ -	
♠ AK ♥ - ♦ - ♣ -		♠ 82 ♥ - ♦ - ♣ -
	♠ 93 ♥ - ♦ - ♣ -	


- Dwie sąsiadujące karty mają równoważną siłę.
- Czy N powinien zawistować w damę czy w waleta?
- Jakie karty powinni dodawać E i S po wiście N?
- Jakie karty pozostaną po zagranie pierwszej lewy?
- Kto zdobywa lewę ten wistuje jako pierwszy. Kto zdobędzie pierwszą lewę?
- Kto zdobędzie drugą lewę?

# Wybór karty wistu - 2

S rozgrywa kontrakt bezatutowy. N wistuje.

Kto zdobywa lewę?


Ile lew weźmie W?

	♠ W ♥ - ♦ - ♣ -	
♠ K ♥ - ♦ - ♣ -		♠ 8 ♥ - ♦ - ♣ -
	♠ 9 ♥ - ♦ - ♣ -	

- Dwie sąsiadujące karty mają równoważną siłę.
- Jakie karty pozostaną po zagranie pierwszej lewy?
- Kto zdobędzie lewę?

# Wybór karty wistu i sposobu rozgrywki

Para WE rozgrywa kontrakt bezatutowy. N wistuje w damę pik.  
Czy po wiście w damę pik para WE może zdobyć dwie lewy?  
W jaki sposób?

	♠ DW ♥ - ♦ - ♣ -	
♠ A8 ♥ - ♦ - ♣ -		♠ K2 ♥ - ♦ - ♣ -
	♠ 93 ♥ - ♦ - ♣ -	

# Wybór karty wistu i sposobu rozgrywki - 1

Para NS rozgrywa kontrakt bezatutowy. N wistuje.

Czy para NS może zdobyć dwie lewy?

W jaki sposób?


Jak wyglądają karty pozostałe po zdobyciu lewy na W pik?

	♠ W4 ♥ - ♦ - ♣ -	
♠ 92 ♥ - ♦ - ♣ -		♠ 83 ♥ - ♦ - ♣ -
	♠ 105 ♥ - ♦ - ♣ -	

# Wybór karty wistu i sposobu rozgrywki – 1a

Zanim dołożysz kartę – spróbuj wyobrazić sobie rozkład kart.


WIZUALIZUJ!

	♠ 4 ♥ - ♦ - ♣ -	
♠ 9 ♥ - ♦ - ♣ -		♠ 8 ♥ - ♦ - ♣ -
	♠ 10 ♥ - ♦ - ♣ -	

# Wybór karty wistu i sposobu rozgrywki - 2


Para WE rozgrywa kontrakt bezatutowy. W wistuje w asa kier.

Kto zdobędzie pierwszą lewę? Jakie karty pozostaną po pierwszej lewie?

	♠ 74 ♥ - ♦ - ♣ -	
♠ A5 ♥ - ♦ - ♣ -		♠ 83 ♥ - ♦ - ♣ -
	♠ 96 ♥ - ♦ - ♣ -	

# Wybór karty wistu i sposobu rozgrywki – 2a

Para WE rozgrywa kontrakt bezatutowy. Kto zdobywa lewę?


	♠ 7 ♥ - ♦ - ♣ -	
♠ 5 ♥ - ♦ - ♣ -		♠ 8 ♥ - ♦ - ♣ -
	♠ 9 ♥ - ♦ - ♣ -	



# Wybór karty wistu i sposobu rozgrywki - 3


Para WE rozgrywa kontrakt bezatutowy. W wistuje w asa pik.

Ile lew zdobędzie para WE? Jakie karty pozostaną po pierwszej lewie?

	<p>♠ W10</p> <p>♥ -</p> <p>♦ -</p> <p>♣ -</p>	
<p>♠ A2</p> <p>♥ -</p> <p>♦ -</p> <p>♣ -</p>		<p>♠ D3</p> <p>♥ -</p> <p>♦ -</p> <p>♣ -</p>
	<p>♠ K</p> <p>♥ -</p> <p>♦ -</p> <p>♣ 2</p>	

# Wybór karty wistu i sposobu rozgrywki - 4


Para WE rozgrywa kontrakt bezatutowy. Drugą lewę zdobędzie E.

	♠ W10 ♥ - ♦ - ♣ -	
♠ A2 ♥ - ♦ - ♣ -		♠ D3 ♥ - ♦ - ♣ -
	♠ K ♥ - ♦ - ♣ 2	

Ile lew  
zdobędzie  
para WE jeżeli  
kontrakt  
będzie miał  
atu:  
a) karo,  
b) trefle?


# Wybór karty wistu i sposobu rozgrywki - 5

Kontrakt bezatutowy. E wistuje w damę karo. Kto zdobędzie pierwszą lewę? Kto zdobędzie drugą lewę?

	♠ - ♥ - ♦ W ♣ A	
♠ - ♥ A ♦ 2 ♣ -		♠ - ♥ - ♦ D8 ♣ -
	♠ A ♥ - ♦ 10 ♣ -	

# Zatrzymanie - 1


Kontrakt bezatutowy. N wistuje w króla karo. Kto zdobędzie pierwszą lewę? Kto zdobędzie drugą lewę?

	♠ - ♥ - ♦ KDW ♣ -	
♠ - ♥ - ♦ A65 ♣ -		♠ - ♥ - ♦ 987 ♣ -
	♠ - ♥ - ♦ 432 ♣ -	

Sekwens –  
kolejne karty,  
np. KDW.  
Ile lew  
zdobędzie  
para NS?

# Zatrzymanie - 2


Kontrakt bezatutowy. N wistuje w króla karo.

	♠ - ♥ - ♦ KDW ♣ -	
♠ - ♥ - ♦ A65 ♣ -		♠ - ♥ - ♦ 987 ♣ -
	♠ - ♥ - ♦ 432 ♣ -	

To co osiągniemy wistując królem karo to zmuszenie przeciwników do pobicia asem. Potem możemy uzyskać pozostałe lewy. O asie mówimy, że jest zatrzymaniem w kolorze karowym ponieważ aby zdobyć lewy na damę i króla najpierw musimy pozbawić W najstarszej karty w karach – asa. Para WE posiada jedno zatrzymanie w karach.

# Lewy szybkie. Lewy potencjalne.

Kontrakt bezatutowy. N wistuje w króla karo.


	♠ - ♥ - ♦ KDW ♣ -	
♠ - ♥ - ♦ A65 ♣ -		♠ - ♥ - ♦ 987 ♣ -
	♠ - ♥ - ♦ 432 ♣ -	

Para WE ma jedną szybką lewę. Para WE nie ma lew potencjalnych.

Asa karo określamy jako szybką lewę wygrywającą (lub inaczej lewę natychmiastową). Lewy na damę i króla karo określamy jako lewy potencjalne. Dama i król mogą stanowić potencjalne źródło lew ale dopiero po wypromowaniu tych kart, które są niższe od asa karo. Ile szybkich lew posiada para NS? Para NS nie ma szybkich lew. Para NS posiada dwie lewy potencjalne.


# Lewy szybkie. Lewy potencjalne. 2

Kontrakt bezatutowy. W wistuje. Ile lew zdobędzie para WE?

	♠ - ♥ W3 ♦ - ♣ -	
♠ - ♥ A9 ♦ - ♣ -		♠ - ♥ D4 ♦ - ♣ -
	♠ - ♥ K7 ♦ - ♣ -	

# Lewy szybkie. Lewy potencjalne. 3

Kontrakt bezatutowy. W wistuje. Ile lew zdobędzie para WE?


	♠ - ♥ W3 ♦ - ♣ -	
♠ - ♥ A9 ♦ - ♣ -		♠ - ♥ D4 ♦ - ♣ -
	♠ - ♥ K7 ♦ - ♣ -	

W ma najstarszą kartę więc ma jedną szybką lewą. W nie ma lew potencjalnych.  
NS nie mają lew szybkich ale mają lewą potencjalną.  
W zdobędzie lewą na asa, a S na króla.




# Lewy szybkie. Lewy potencjalne. 4

Kontrakt bezatutowy. N wistuje. Ile lew może zdobyć para NS?

	♠ - ♥ - ♦ - ♣ 95	
♠ - ♥ - ♦ - ♣ 84		♠ - ♥ - ♦ - ♣ 73
	♠ - ♥ - ♦ - ♣ 62	

# Lewy szybkie. Lewy potencjalne. 5


Kontrakt bezatutowy. N wistuje. Ile lew może zdobyć para NS?

	♠ - ♥ - ♦ - ♣ 95	
♠ - ♥ - ♦ - ♣ 84		♠ - ♥ - ♦ - ♣ 73
	♠ - ♥ - ♦ - ♣ 62	

N ma najwyższą kartę więc para NS ma jedną lewę szybką. Para NS nie ma lew potencjalnych. Para WE nie ma lew szybkich. Para WE ma jedną lewę potencjalną (po zagranie 9 trefl gracz W ma najwyższą kartę – 8 trefl).  
Zagranie 9 trefl promuje 8 trefl.  
NS – 1 lewa.  
WE – 1 lewa.


# Lewy szybkie. Lewy potencjalne. 6

Kontrakt bezatutowy. N wistuje. Ile lew może zdobyć para NS?

	<p>♠ AD3</p> <p>♥ -</p> <p>♦ -</p> <p>♣ -</p>	
<p>♠ W94</p> <p>♥ -</p> <p>♦ -</p> <p>♣ -</p>		<p>♠ 765</p> <p>♥ -</p> <p>♦ -</p> <p>♣ -</p>
	<p>♠ K108</p> <p>♥ -</p> <p>♦ -</p> <p>♣ -</p>	

# Lewy szybkie. Lewy potencjalne. 7

Kontrakt bezatutowy. N wistuje. Ile lew może zdobyć para NS?


	♠ AD3 ♥ - ♦ - ♣ -	
♠ W94 ♥ - ♦ - ♣ -		♠ 765 ♥ - ♦ - ♣ -
	♠ K108 ♥ - ♦ - ♣ -	

Para NS może zdobyć trzy lewy. Ponieważ N i S to jedna para więc mają w pikach asa, króla i damę.

Karty partnerów pracują razem.


# Komunikacja - 1

Kontrakt bezatutowy. N wistuje w 3 trefl. Ile lew może zdobyć para NS?

	<p>♠ - ♥ - ♦ - ♣ AD3</p>	
<p>♠ - ♥ - ♦ - ♣ W94</p>		<p>♠ - ♥ - ♦ - ♣ 765</p>
	<p>♠ - ♥ - ♦ - ♣ K108</p>	

# Komunikacja - 2

Kontrakt bezatutowy. N wistuje w 3 trefl. Ile lew może zdobyć para NS?

	♠ - ♥ - ♦ - ♣ AD3	
♠ - ♥ - ♦ - ♣ W94		♠ - ♥ - ♦ - ♣ 765
	♠ - ♥ - ♦ - ♣ K108	

Jeżeli N zawistuje w 3 trefl to z ręki S należy dołożyć króla, aby zdobyć lewę.

Lewa 1:

N-3 ♣ ; E-5 ♣ ; S-K ♣ ; W-4 ♣ .

Lewa 2:

S-8 ♣ ; W-9 ♣ ; N-A ♣ ; E-6 ♣ .

Lewa 3:

N-D ♣ ; E-7 ♣ ; S-10 ♣ ; W-W ♣ .


Wist przenosi się po pierwszej lewie do ręki S.

Po drugiej lewie wist przenosi się do ręki N.

Takie przejścia i zmiana wistującego mają bardzo duże znaczenie w rozgrywce.

# Wist i komunikacja - 1

Kontrakt bezatutowy. E wistuje. Ile lew może zdobyć para WE?


	♠ - ♥ D96 ♦ - ♣ -	
♠ - ♥ W105 ♦ - ♣ -		♠ - ♥ AK2 ♦ - ♣ -
	♠ - ♥ 753 ♦ - ♣ -	

Po zagranie asa i króla kier trzecią lewą może zdobyć N na damę kier.

Czy zawsze?

# Wist i komunikacja - 2


Kontrakt bezatutowy. S wistuje. Ile lew może zdobyć para NS po wiście w: a) waleta kier, b) 5 trefl?

	<p>♠ - ♥ - ♦ - ♣ W2</p>	
<p>♠ - ♥ - ♦ 103 ♣ -</p>		<p>♠ - ♥ D ♦ - ♣ 10</p>
	<p>♠ - ♥ W ♦ - ♣ 5</p>	




# Wist i komunikacja - 3

Kontrakt bezatutowy. W wistuje w asa pik. Którą kartę powinien zrzucić S do pierwszej lewy?

	♠ D3 ♥ - ♦ - ♣ -	
♠ A ♥ 2 ♦ - ♣ -		♠ W5 ♥ - ♦ - ♣ -
	♠ - ♥ 3 ♦ K ♣ -	

# Wist i komunikacja - 4

Kontrakt bezatutowy. W wistuje w asa pik. Którą kartę powinien zrzucić S do pierwszej lewy?

	♠ D3 ♥ - ♦ - ♣ -	
♠ A ♥ 2 ♦ - ♣ -		♠ W5 ♥ - ♦ - ♣ -
	♠ - ♥ 3 ♦ K ♣ -	

S powinien zachować 3 kier i zrzucić króla karo.

# Zrzutki - przykładowe rozdanie - 1

	♠ Q3			
	♥ -			
	♦ -			
	♣ -			
♠ A		N		♠ W5
♥ 2		W	E	♥ -
♦ -			S	♦ -
♣ -				♣ -
	♠ -			
	♥ 3			
	♦ K			
	♣ -			

W wistuje asem pik.  
Kontrakt bezatutowy.  
Którą kartę powinien  
zrzucić S do pierwszej  
lewy?

S powinien zachować  
3 kier i wyrzucić króla.

# Zrzutki - przykładowe rozdanie - 2

	♠ -			
	♥ -			
	♦ QW10			
	♣ -			
♠ -		N		♠ -
♥ -		W	E	♥ -
♦ 765			S	♦ AK
♣ -				♣ 7
	♠ AK			
	♥ -			
	♦ -			
	♣ 9			

W wistuje siódmką karo. Której karty nie powinien zrzucić S?

# Lewy szybkie i lewy potencjalne

♠ -  
♥ -  
♦ QW10  
♣ -

♠ -	N	♠ -
♥ -	W E	♥ -
♦ 987	S	♦ 876
♣ -		♣ -

♠ -  
♥ -  
♦ 432  
♣ 9

Ile lew szybkich  
wygrywających  
posiadają pary NS i  
WE?

Lewy potencjalne  
trzeba wypromować.



# Lewy potencjalne - 2

♠ -  
♥ -  
♦ -  
♣ W102

♠ -	N	♠ -
♥ -	W E	♥ -
♦ -	S	♦ -
♣ 987		♣ K65

♠ -  
♥ -  
♦ -  
♣ DW4

Ile lew potencjalnych posiada para NS?

Ile lew szybkich i potencjalnych posiada para WE?

# Liczenie lew

	♠ QW109		
	♥ A		
	♦ -		
	♣ -		
♠ A		N	♠ 432
♥ QW109	W	E	♥ 32
♦ -		S	♦ -
♣ -		♣ -	
	♠ 65		
	♥ 765		
	♦ -		
	♣ -		

Ile lew może zdobyć para WE jeżeli W wistuje?

Ile lew zdobędzie para WE po wiście W asem pik?

Ile lew zdobędzie para WE po wiście W damą kier?

W może pozbawić N zatrzymania w kierach zanim para NS wytrąci mu zatrzymanie w pikach.



# Zasada brydżowa

- Wyrabiaj swoje lewy potencjalne zanim wytrącą Ci zatrzymania w innych kolorach.
- Wygrywa często ten, kto pierwszy wyrobi swój kolor, swoje lewy potencjalne.

# Liczenie lew - 1

♠ QW109  
♥ AK  
♦ -  
♣ -

♠ AK	N	♠ 432
♥ QW109	W E	♥ 432
♦ -	S	♦ -
♣ -	♣ -	

♠ 765  
♥ 765  
♦ -  
♣ -

W wistuje.  
Kontrakt BA.  
Ile lew zdobędzie para  
WE?

# Liczenie lew - 2

	♠ QW109			
	♥ AK			
	♦ -			
	♣ -			
♠ AK		N		♠ 432
♥ QW109	W		E	♥ 432
♦ -		S		♦ -
♣ -			♣ -	
	♠ 765			
	♥ 765			
	♦ -			
	♣ -			

Lewa 1: dama kier wytrąca jedno zatrzymanie u N. (np. króla kier).

Lewa 2: N próbuje wyrobić piki wistując w piki. W ma zatrzymanie w pikach i przebija damę pik królem pik.

Lewa 3: W wistuje w waleta kier wytrącając ostatnie zatrzymanie kierowe u N.

Lewa 4: N wistuje w pika, ale resztę lew weźmie W, który przebija waleta pik asem pik.

Wyobraź sobie, że W zagrał najpierw asa pik (zamiast damy kier). Ile lew wezmą wówczas gracze z WE?

# Liczenie lew- 3

♠ QW109

♥ AK

♦ -

♣ -

♠ AK

N

♠ 432

♥ QW109 W E

♥ 432

♦ -

S

♦ -

♣ -

♣ -

♠ 765

♥ 765

♦ -

♣ -

Wyobraź sobie, że W zagrał najpierw asa pik (zamiast damy kier). Ile lew wezmą wówczas gracze z WE?

WIZUALIZACJA.

Utrata tempa rozgrywki pary WE.  
NS zdąży wyrobić swoje piki.

# Branie lew na wyrobione blotki w długim kolorze - 1

	♠ AKD2		
	♥ -		
	♦ -		
	♣ -		
♠ 876	N		♠ W109
♥ A	W	E	♥ K
♦ -	S		♦ -
♣ -			♣ -
	♠ 543		
	♥ 2		
	♦ -		
	♣ -		

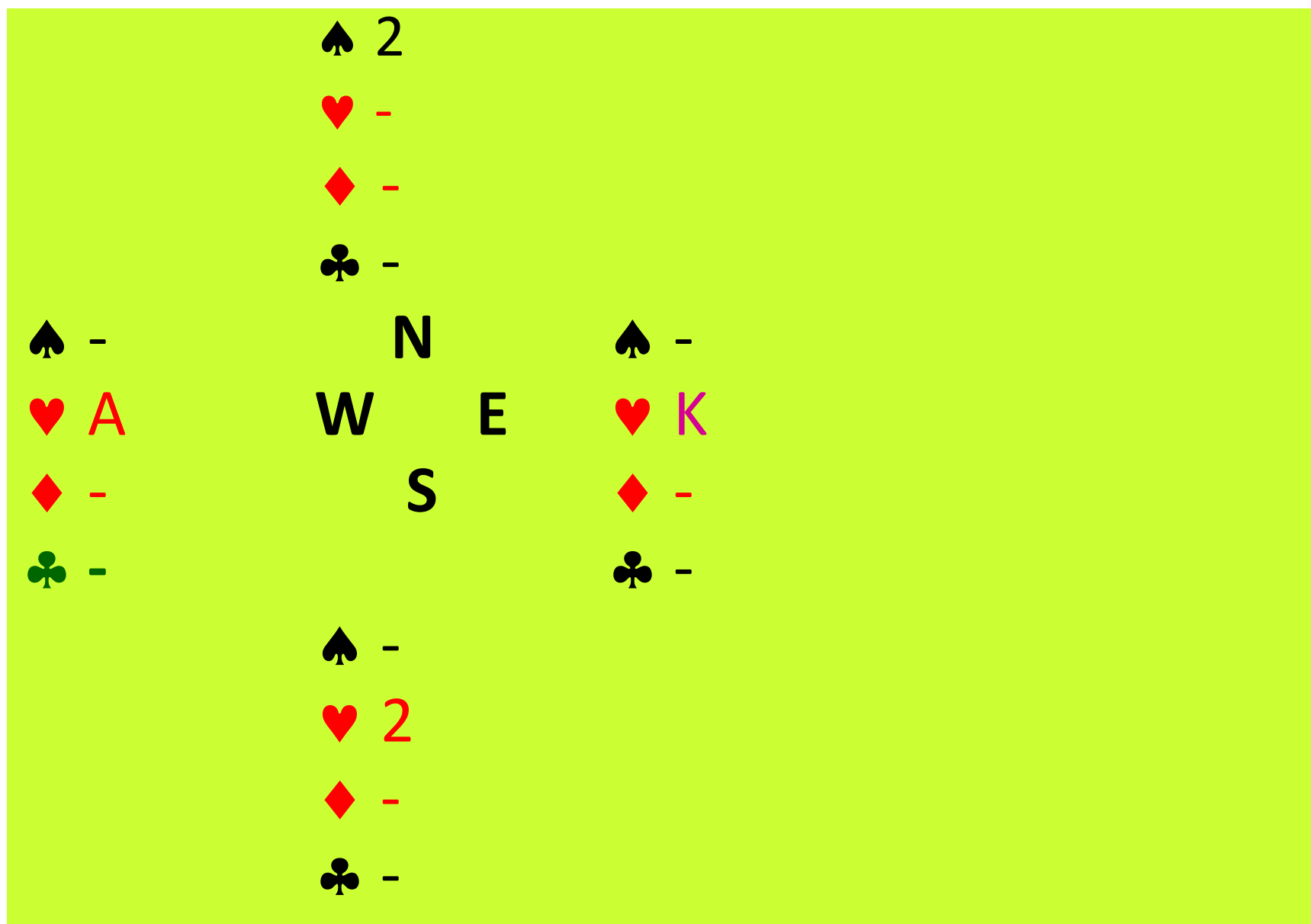
N wistuje.

Kontrakt BA.

Ile lew zdobędzie para NS?

Jakie karty pozostaną po zgraniu asa, króla i damy pik?

# Branie lew na wyrobione blotki w długim kolorze - 2



Jakie karty pozostaną po zgraniu asa, króla i damy pik?

Rozegranie długiego koloru może nam zapewnić lewy nawet na najniższe blotki. Aby wyrobić blotki trzeba uwzględnić możliwy rozkład danego koloru.

# Rozkład kart w kolorze

- W przykładzie N posiadał 4 karty w pikach a pozostali gracze mieli po 3 karty w pikach.
- Razem gracze NS mieli 7 kart.
- Pozostali gracze (WE) mieli  $13-7=6$  kart. Przeciętnie każdy gracz tej pary może posiadać 3 karty. Rozkład kart określamy wówczas jako rozkład 4-3-3-3 (jeden gracz ma 4 karty w kolorze a pozostali po 3 karty).
- Karty mogą jednak być podzielone inaczej, np.: 4-4-3-2, 4-5-3-1, 4-6-3-0.
- Tylko w jednym przypadku możliwe będzie wyrobienie lewy na 2 pik z przykładu.

# Komunikacja

♠ 5432

♥ AK

♦ -

♣ -

♠ 876

♥ 987

♦ -

♣ -

N  
W E  
S

♠ W109

♥ 1065

♦ -

♣ -

♠ AKD

♥ 432

♦ -

♣ -

N wistuje. Kontrakt BA. Ile lew weźmie para NS?

Czy 2 pik (albo 5 pik) może stać się kartą wyrobioną i zdobyć lewę?

Czy posiadamy możliwość zagrania wyrobionej 2 pik (5 pik)?

Czy posiadamy komunikację z ręką N?



# Zablokowanie koloru

♠ AK32			
♥ -			
♦ -			
♣ -			
♠ 876	N		♠ W109
♥ A	W	E	♥ K
♦ -		S	♦ -
♣ -			♣ -
♠ D54			
♥ 2			
♦ -			
♣ -			

N wistuje. Kontrakt BA. Ile lew weźmie para NS jeżeli najpierw zostanie zagrany as i król pik?

Kolor pikowy zostanie zablokowany.

# Zasada brydżowa

- Zagraj najpierw honory z krótszej ręki.

# Zablokowanie koloru

S wistuje. Kontrakt BA. Czy para NS może zdobyć 4 lewy?

	♠ K2		
	♥ -		
	♦ -		
	♣ 32		
♠ 65	N	♠ 10987	
♥ -	W E	♥ -	
♦ -	S	♦ -	
♣ AK		♣ -	
	♠ ADW3		
	♥ -		
	♦ -		
	♣ -		

Uwaga! Nie zablokuj koloru.

# Liczenie lew - 1

S wistuje. Kontrakt BA.  
Ile lew zdobędzie para NS?

	♠ -			
	♥ KW102			
	♦ -			
	♣ -			
♠ 54		N		♠ -
♥ -	W	E		♥ 9876
♦ -		S		♦ -
♣ AK				♣ -
	♠ AD			
	♥ -			
	♦ -			
	♣ 32			

# Liczenie lew - 2

♠ -

♥ -

♦ AK765

♣ -

♠ -

♥ -

♦ ?

♣ -

N

W

E

S

♠ -

♥ -

♦ ?

♣ -

♠ -

♥ -

♦ D432

♣ 2

N wistuje. Kontrakt BA.

W jaki sposób musi być rozłożony kolor karowy aby NS zdobyli 5 lew?

# Liczenie lew - 3

♠ -				
♥ -				
♦ AK765				
♣ -				
♠ -		N		♠ -
♥ -	W		E	♥ -
♦ ?		S		♦ ?
♣ -				♣ -
♠ -				
♥ -				
♦ D432				
♣ 2				

N wistuje. Kontrakt BA.

NS mają razem  $5 + 4 = 9$  kart w karach.

WE mają  $13 - 9 = 4$  karty w karach. Te karty to: W1098 karo.

Jeżeli obaj przeciwnicy posiadają co najmniej jedno karo (czyli rozkład kar jest 2-2 albo 3-1) to zawsze weźmiemy 5 lew karowych jako NS.

Jeżeli jeden z przeciwników posiada wszystkie kara (rozkład 4-0) to jako NS weźmiemy tylko 3 lewy

# Liczenie lew - 4

♠ -

♥ -

♦ AK765

♣ -

♠ -

N

♠ -

♥ -

W

E

♥ -

♦ W1098

S

♦ -

♣ A

♣ KDW10

♠ -

♥ -

♦ D432

♣ 2

N wistuje. Kontrakt BA.

Rozkład kar u obrońców WE 4-0.

Rozkład koloru karowego w rozdaniu:  
5-4-4-0.

# Wyrabianie blotek w długim kolorze

N wistuje. Kontrakt BA.

Po zagranie trzech górnych kar pozostałe blotki wyrobią się.

♠ -

♥ -

♦ AK765

♣ -

♠ -

N

♠ -

♥ -

W

E

♥ -

♦ W109

S

♦ 8

♣ AK

♣ DW109

♠ -

♥ -

♦ D432

♣ 2



# Która ręka ma większy potencjał?

♠ -

♥ -

♦ AK765

♣ -

Oba kolory mają po siedem kart i trzy honory.

♠ -

♥ -

♦ AK432

♣ -

♠ -

N

♠ -

♠ -

N

♠ -

♥ -

W

E

♥ -

♥ -

W

E

♥ -

♦ W109

S

♦ 8

♦ W1098

S

♦ 76

♣ AK

♣ DW109

♣ A

♣ DW10

♠ -

♥ -

♦ D432

♣ 2

Łatwiej jest wyrobić dłuższy kolor.

♠ -

♥ -

♦ D5

♣ 432

# Liczenie lew

♠ 654

♥ 765

♦ -

♣ -

♠ KDW

N

♠ 10987

♥ DW10

W

E

♥ 98

♦ -

S

♦ -

♣ -

♣ -

♠ A

♥ AK432

♦ -

♣ -

S wistuje. Kontrakt BA.

Ile lew weźmie para NS?

Uwaga! Nie ruszaj asa pik

# Ręka NS

♠Q 6  
♥Q 8 5  
♦A 9 6 4  
♣Q 10 5 3

Wist: ♠7



♠A 4 3  
♥A K 6 4  
♦K 5 2  
♣K J 6


Kontrakt 3 BA. Rozgrywa S. Wist 7 pik.

Ile masz „szybkich” (górných) lew w pikach?	1
...w kierach?	3
...w karach?	2
...w treflach?	0
Ile dodatkowych lew potrzebujesz aby wygrać kontrakt?	3
Ile dodatkowych lew możesz uzyskać w pikach?	0 (jeżeli K ma E)
...w kierach?	1 (4-3-3-3)
...w karach?	1 (4-3-3-3)
...w treflach?	3 (po zgraniu asa)

Którą kartę zagrasz w pierwszej lewie z dziadka? Q pik

Który kolor zagrasz pierwszy aby wyrobić dodatkowe lewy? Trefle.

S rozgrywa kontrakt bezatutowy. W wistuje w damę karo.  
Kto zdobywa lewę? Kto wygra?

	♠ DW ♥ D 7 4 3 ♦ A 9 8 6 4 3 ♣ 10	
♠ K 5 ♥ - ♦ K D W 7 2 ♣ A W 7 4 3 2		♠ 3 2 ♥ K 10 8 6 5 2 ♦ 10 5 ♣ K 9 8
	♠ A 10 9 8 7 5 4 ♥ A W 3 ♦ ♣ D 6 5	

Kontrakt 3BA. Rozgrywa S. Wist K karo.

Ile masz górnych lew w pikach? 1  
 ...w kierach? 1  
 ...w karach? 1  
 ...w treflach? 0

Ile dodatkowych lew potrzebujesz aby wygrać kontrakt? 6

Ile dodatkowych lew możesz uzyskać w pikach? 5-6

...w kierach? 1

(jeżeli zaimpasujesz króla)

...w karach? 0-1

...w treflach? 0

(brak K , W , 10 , 8)

Którą kartę zagrasz w pierwszej lewie z dziadka? As karo .

Który kolor zagrasz pierwszy aby wyrobić dodatkowe lewy? Piki  
 – damę na impas (a potem damę kier gdyby dama pik zdobyła lewę).